




1. Dopolni preglednico.

LIK	IME	ŠTEVILO STRANIC	ŠTEVILO OGLIŠČ	NARIŠI ŠE SAM
	pravokotnik	4	4	
	trikotnik	3	3	
	krog	0	Nima, ker je sklenjena kriva črta.	
	kvadrat	4	4	
	šestkotnik	6	6	
	oval ali elipsa	0	Nima, ker je sklenjena kriva črta	

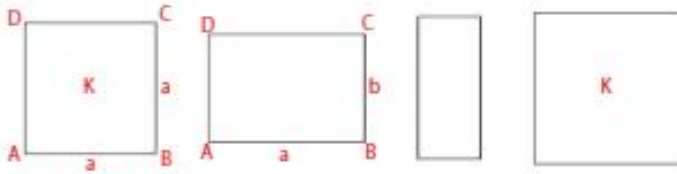
Katerim likom z ravnilom ne moreš izmeriti dolžine stranic? **Krogu in elipsi.**

Zakaj? **Ker ju omejujeta sklenjeni krivi črti.**



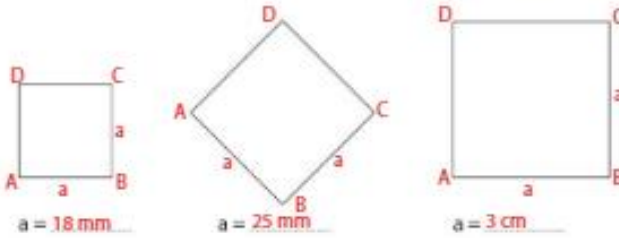
Naloga

1. Označi stranice in oglišča spodnjih pravokotnikov. V pravokotnike, ki so tudi kvadrati, vpiši črko K.



Prvi in četrti lik sta kvadrata.

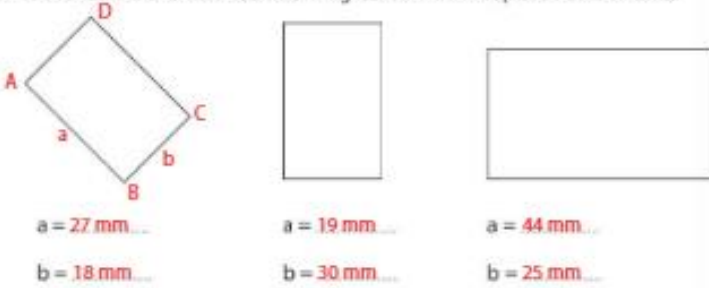
2. Kvadratom označi stranice in oglišča. Izmeri in zapiši dolžine stranic.



Poskusi meriti tako natančno, da se ne zmotiš niti za 1 mm.



3. Pravokotnikom označi stranice in oglišča. Izmeri in zapiši dolžine stranic.



4. Narisani sta po dve stranici kvadratov oz. pravokotnikov. Narisi drugi dve stranici.

