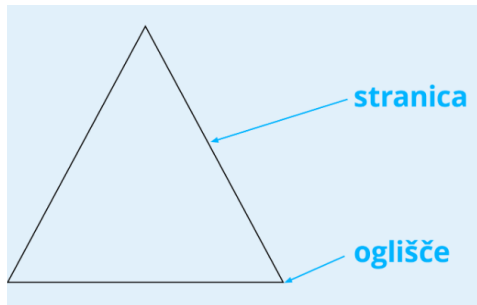


1. Ponovi vse o geometrijskih telesih in reši naloge v SDZ str. 53/1. ter SDZ str. 54 /2. in 3.
Ločite kvader in kocko? Ustno povej nekemu od družinskih članov kakšne so razlike.
2. V zvezek MAT napiši naslov **LASTNOSTI GEOMETRIJSKIH LIKOV.**
3. Preriši in prepisi spodnjo sliko ter besedilo:



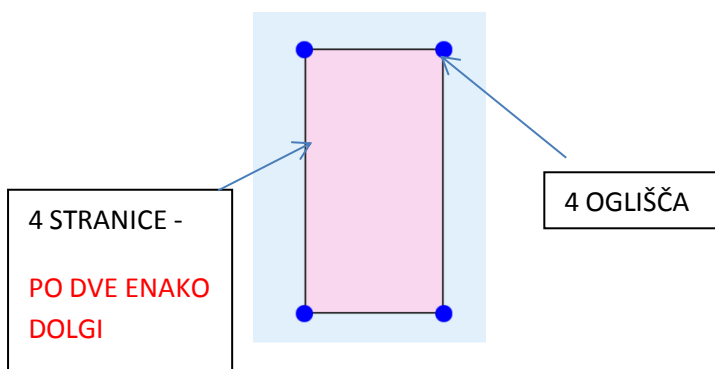
Geometrijski liki:

- so ravne ploskve,
- jim lahko izmerimo širino in dolžino,
- imajo oglišča in stranice.

4. Preriši spodnjo preglednico ter jo izpolni. RIŠI S ŠABLONO IN Z NAVADNIM SVINČNIKOM!

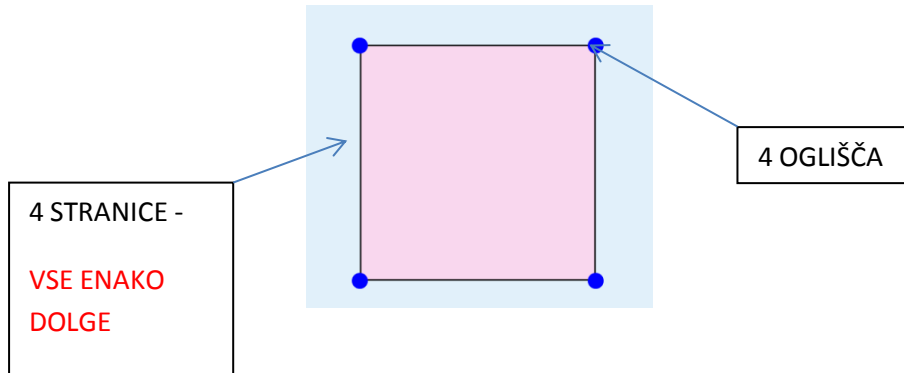
Ime lika	krog	kvadrat	pravokotnik	trikotnik	šestkotnik
Risba lika					
Število oglišč					
Število stranic					

5. Odpri SDZ str. 56, 57 in si preberi razliko med pravokotnikom in kvadratom.
6. V zvezek napiši naslov **PRAVOKOTNIK**
7. S šablono preriši spodnjo sliko.

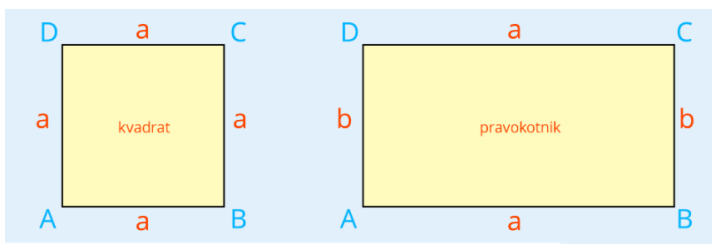


8. V zvezek napiši naslov **KVADRAT**

9. S šablono preriši spodnji sliki.



10. V zvezek napiši naslov **Označevanje pravokotnika in kvadrata**



POZOR!!!! PAZI NA PRAVILNO OZNAČEVANJE PRAVOKOTNIKA in KVADRATA.

OGLIŠČA označimo z **VELIKIMI** tiskanimi črkami, v nasprotni smeri urinega kazalca.

STRANICE označujemo z **MALIMI** tiskanimi ali pisanima črkama. Enako dolgi označimo z enako črko.

KVADRAT ima vse stranice enako dolge, zato jih označimo s črko **a**.