

1. Preveri, če si pravilno rešil naloge iz prejšnje ure (poglej v rešitve). Lahko si tudi v spletnem gradivu Radovednih pet pogledaš kaj pravijo o prometnih pravilih.



2. V zvezek napiši:

Vožnja s kolesom

- Za vožnjo s kolesom moramo imeti opravljen kolesarski izpit.
 - Kolo mora biti ustrezno opremljeno.
 - Med vožnjo nosimo čelado.
3. Da se lažje znajdemo v prometu moramo ljudje upoštevati tudi prometno signalizacijo. To so prometni znaki in drugi narisani, zvočni ali svetlobni signali.

Tudi to si lahko pogledaš v spletnem gradivu Radovednih 5.






4. V zvezek zapiši in preriši naslednje prometne znake:

PROMETNA SIGNALIZACIJA

Prometna signalizacija vključuje prometne znake ter označbe na voziščih in drugih prometnih površinah.

Vrste prometnih znakov

ZNAKI ZA IZRECNE ODREDBE : ZNAKI ZA PREPOVEDI, OMEJITVE IN OBVEZNOSTI (okrogle oblike)	
ZNAKI ZA NEVARNOST (trikotne oblike)	
ZNAKI ZA OBVESTILA (kvadratne oblike)	

5. Reši nalogo v SDZ str. 52

